



وزارة التربية

الإدارة العامة لمنطقة الأحمدية التعليمية

مدرسة عبد الحميد صالح فرس المتوسطة بنين

العام الدراسي ٢٠١٩ / ٢٠٢٠ م

السنة الأولى
الصفحة الأولى
الجمعة ١٢ / ١٢ / ٢٠١٩ م

الصفحة الأولى
الجمعة ١٢ / ١٢ / ٢٠١٩ م

الصفحة الأولى
الجمعة ١٢ / ١٢ / ٢٠١٩ م

الصفحة الأولى
الجمعة ١٢ / ١٢ / ٢٠١٩ م

الصفحة الأولى
الجمعة ١٢ / ١٢ / ٢٠١٩ م

الصفحة الأولى
الجمعة ١٢ / ١٢ / ٢٠١٩ م

الصفحة الأولى
الجمعة ١٢ / ١٢ / ٢٠١٩ م

الوحدة الأولى

الوطن العربي مقومات وملامح جغرافية

مفاهيم الوحدة الأولى :

المفهوم	التعريف
الوطن العربي	مجموعة الدول العربية التي يجمعها عدد من السمات المشتركة (الدين واللغة) ويمتد ضمن قارتين من أكبر قارات العالم مساحة .
الموقع الاستراتيجي	موقع ذي مكانة مهمة بين دول العالم .
المسطحات المائية	جميع أشكال المياه على سطح الأرض مثل البحار والخلجان والمحيطات والبحيرات والأنهار .
الفتاة	مجرى مائي صناعي ضيق يشق لأغراض الري أو النقل .
المضيق	ممر مائي ضيق يصل بين بحرين أو محيطين أو أي مساحتين كبيرتين نسبياً من الماء .
الموقع الفلكي	هو نقطة من الكرة الأرضية يحدد موقعها بخطوط الطول ودوائر العرض
خطوط الطول	خطوط وهمية ترسم على الكرة الأرضية وتقسّم الكرة الأرضية إلى قسمين شرقي وغربي .
دوائر العرض	خطوط وهمية ترسم على الكرة الأرضية وتقسّم الكرة الأرضية إلى قسمين شمالي وجنوبي .
الموقع النسبي	موقع الدولة بالنسبة لليابس والماء .
الجبل	كل ما ارتفع من الأرض وله قمة لا يقل ارتفاعه عن ١٠٠٠ متر
الهضبة	أرض مرتفعة سطحها مستو وتمتد على مساحة كبيرة .
السهول	مساحة كبيرة من سطح الأرض تتميز باستوائها وقلة ارتفاعها .
السهول الفيضية (النهرية)	هي الأراضي المنخفضة التي تكونت من التربة التي حملتها مياه الأنهار .

تابع مفاهيم الوحدة الأولى :

المفهوم	التعريف
السهول الساحلية	هي الأراضي المنبسطة التي تجاور سواحل البحار والمحيطات .
الوادي	منخفض طولي بين منطقتين مرتفعتين .
المناخ	حالة الجو خلال فترة زمنية طويلة من حيث درجة الحرارة والرطوبة والأمطار والرياح .
الطقس	حالة الجو في مكان ما لمدة قصيرة تتراوح بين يوم أو عدة أيام من حيث درجة الحرارة والرطوبة والأمطار والرياح والضغط الجوي .
الضغط الجوي	وزن الهواء فوق أي مكان .
الإقليم	يعني أنه منطقة أو مكان . مثال (إقليم صناعي يعني منطقة صناعية) .
النبات الطبيعي	هو النبات الذي ينمو تلقائياً عقب سقوط المطر دون تدخل من الإنسان .
النهر	مجرى مائي عذب ينحدر على الدوام لينتهي إلى بحر أو إلى نهر آخر أو ينتهي تدريجياً في الصحراء .
المياه الجوفية	هي المياه التي توجد في جوف الأرض (باطن الأرض) .
الأفلاج	الماء الجاري (مجرى صغير مائي في الأرض) .
البحيرة	مسطح مائي تحيط به اليابسة من جميع الاتجاهات .

الدرس الأول : البيئة الطبيعية في الوطن العربي

أ - تعريف الوطن العربي

الأنشطة :

نشاط (١) ص (٢) لاحظ الخريطة شكل (١) ثم شارك زملاءك في الإجابة عن الأسئلة التي تليها .



علام يدل اللون الأصفر في الخريطة ؟

دول الوطن العربي .

* ما اسم القارات التي يمتد فيها الوطن العربي ؟







• آسيا

• أفريقيا







* ما موقع الوطن العربي بالنسبة إلى قارات العالم ؟

ب - دول الوطن العربي

نشاط (٤) ص (٢٥) بالاستعانة بالأطلس المدرسي وشبكة الأنترنت تعرف على أسماء الدول العربية وعواصمها .

						اسم الدولة
البحرين	الامارات	عمان	السعودية	قطر	الكويت	
المنامة	أبو ظبي	مسقط	الرياض	الدوحة	الكويت	عاصمتها

						اسم الدولة
الأردن	سوريا	فلسطين	لبنان	العراق	اليمن	
عمان	دمشق	القدس	بيروت	بغداد	صنعاء	عاصمتها

						اسم الدولة
موريتانيا	المغرب	الجزائر	تونس	ليبيا	مصر	
نواكشوط	الرباط	الجزائر	تونس	طرابلس	القاهرة	عاصمتها

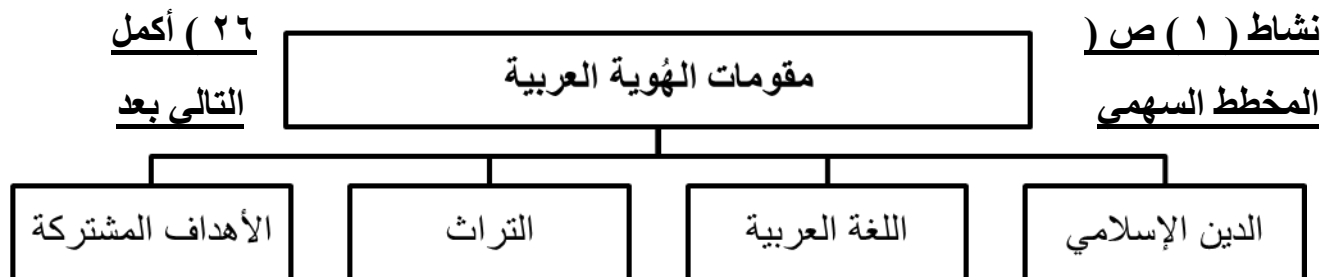
				اسم الدولة
جزر القمر	الصومال	جيبوتي	السودان	

عاصمتها	الخرطوم	جيبوتي	مقديشيو	موروني
---------	---------	--------	---------	--------

أكمل العبارات التالية بما يناسبها مما درست :

- ١- الدولة العربية التي تقع خارج نطاق موقع الوطن العربي اسمها جزر القمر .
 - ٢- تتكون جمهورية جزر القمر من اتحاد ٤ جزر .
 - ٣- تقع جمهورية جزر القمر شمال غرب جزيرة مدغشقر .
 - ٤- تقع جمهورية جزر القمر في المحيط الهندي .
 - ٥- عاصمة جمهورية جزر القمر مدينة موروني .
 - ٦- انضمت جمهورية جزر القمر إلى جامعة الدول العربية في عام ١٩٩٣ م .
 - ٧- أكبر دولة عربية في الجناح الآسيوي للوطن العربي السعودية .
 - ٨- أصغر دولة عربية في الجناح الآسيوي للوطن العربي البحرين .
 - ٩- أكبر دولة عربية في الجناح الأفريقي للوطن العربي الجزائر .
 - ١٠- أصغر دولة عربية في الجناح الأفريقي للوطن العربي جزر القمر .
 - ١١- تمثل مساحة الوطن العربي من إجمالي مساحة العالم ١٠ % .
 - ١٢- تبلغ مساحة الوطن العربي ١٣،٥٠٠ مليون كم ٢ .
 - ١٣- الدولة التي انضمت حديثاً لجامعة الدول العربية اسمها جزر القمر .
 - ١٤- البحر الذي يفصل الجناح الآسيوي عن الجناح الأفريقي للوطن العربي هو البحر الأحمر .
 - ١٥- عدد الدول العربية ٢٢ دولة .
 - ١٦- عدد الدول العربية في الجناح الآسيوي للوطن العربي ١٢ دولة .
 - ١٧- عدد الدول العربية في الجناح الأفريقي للوطن العربي ١٠ دول .
- الآسيوي عن الجناح الأفريقي للوطن العربي على الخريطة

ج - هوية الوطن العربي



الاستعانة بالفقرة السابقة :

التمارين :

أجب عن الأسئلة التالية :

١- عدد مقومات الهوية العربية .

• الدين الإسلامي .

• اللغة العربية .

• التراث .

• الأهداف المشتركة .

٢- ما هو أثر اللغة العربية على دول الوطن العربي .

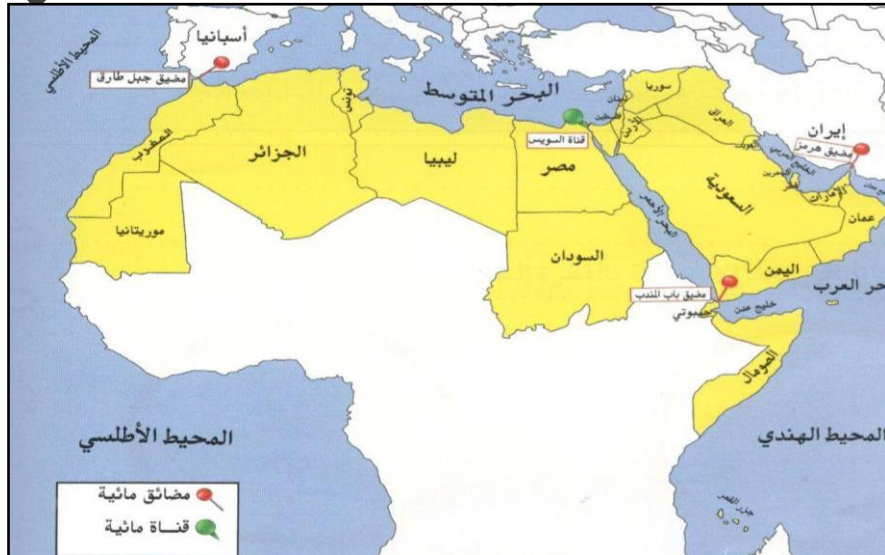
ساهمت في امتزاج هذه الدول ثقافياً وحضارياً وتاريخياً .

الدرس الثاني : موقع الوطن العربي

أ - موقع الوطن العربي وحدوده

الأنشطة :

نشاط (١) ص (٢٩) استعن في الشكل رقم (٤) ثم أجب عملياً :



* ما الصفات الأساسية التي يتمتع بها موقع الوطن العربي ؟

- يشرف على العديد من المضائق العالمية الهامة .
- يطل على العديد من المسطحات المائية الهامة .
- منطقة عبور لحركة الملاحة والتجارة العالمية .
- يقع وسط قارات العالم الثلاث (آسيا - أفريقيا - أوروبا) .

* في أي قارة يمتد القسم الأكبر من الوطن العربي .

قارة أفريقيا .

نشاط (٢) ص (٢٩) ساعد خالد في التعرف على أسماء المضائق ، والممرات المائية وكذلك أسماء المسطحات المائية التي تتصل بها .



مضيق
جبل طارق
وهذا المضيق
يصل بين البحر
المتوسط
والمحيط
الأطلسي

قناة
السويس
وهذه القناة
تصل بين البحر
الأحمر
والبحر
المتوسط

مضيق
باب المنذب
وهذا المضيق
يصل بين خليج
عدن
والبحر
الأحمر

مضيق
هرمز
وهذا المضيق
يصل بين الخليج
العربي
وخليج
عمان

التمارين :

أكمل العبارات التالية بما يناسبها مما درست:

- ١- يمتد القسم الأكبر من الوطن العربي في قارة أفريقيا.
- ٢- يمتد القسم الأصغر من الوطن العربي في قارة آسيا.
- ٣- المضيق الذي يصل بين الخليج العربي وخليج عمان هو مضيق هرمز.
- ٤- المضيق الذي يصل بين البحر الأحمر وخليج عدن هو مضيق باب المندب.
- ٥- المضيق الذي يصل بين البحر المتوسط والمحيط الأطلسي هو مضيق جبل طارق.
- ٦- القناة التي تصل بين البحر المتوسط والبحر الأحمر هي قناة السويس.

أجب عن الأسئلة التالية :

- ١- **علل :** يتمتع الوطن العربي بموقع استراتيجي مهم تتجدد أهميته على مر العصور .
 - يشرف على العديد من المضائق العالمية الهامة .
 - يطل على العديد من المسطحات المائية الهامة .
 - منطقة عبور لحركة الملاحة والتجارة العالمية .
 - يقع وسط قارات العالم الثلاث (آسيا - أفريقيا - أوروبا) .
- ٢- عدد المحيطات التي يطل عليها الوطن العربي .
 - المحيط الأطلسي .
 - المحيط الهندي .
- ٣- عدد البحار التي يطل عليها الوطن العربي .
 - البحر المتوسط .
 - البحر الأحمر .
 - بحر العرب .
- ٤- عدد الخلجان التي يطل عليها الوطن العربي .
 - الخليج العربي .

• خليج عمان .

• خليج عدن .

ب - الموقع الفلكي للوطن العربي

الأنشطة :

نشاط (٣١) ص (٣٢) قارن بين خطوط الطول ودوائر العرض حسب الجدول التالي :

دوائر العرض	خطوط الطول	أوجه المقارنة
خطوط وهمية ترسم على الكرة الأرضية وتقسّمها إلى قسمين شمالي وجنوبي .	خطوط وهمية ترسم على الكرة الأرضية وتقسّمها إلى قسمين شرقي وغربي .	التعريف
١٨٠	٣٦٠	العدد
الاستواء	جرينتش	الخط الرئيسي
معرفة أحوال مُناخ العالم .	معرفة التوقيت الزمني في مختلف جهات العالم .	مميزاته

نشاط (٢) ص (٣٢) من خلال شكل رقم (٥) أفكر ثم أجب .

*ما الدولة العربية التي يمر بها خط الاستواء .

الصومال

*ما الدولة العربية التي يمر بها خط جرينتش .

الجزائر

أكمل العبارات التالية بما يناسبها مما درست:

١- نقطة من الكرة الأرضية يتحدد موقعها بخطوط الطول ودوائر العرض تسمى الموقع الفلكي.

٢- الدولة العربية التي يمر بها خط جرينتش هي الجزائر.

٣- الدولة العربية التي يمر بها خط الاستواء هي الصومال.

٤- عدد خطوط الطول ٣٦٠ خط.

٥- عدد دوائر العرض ١٨٠ دائرة.

٦- خط الطول الرئيسي الذي يقسم الكرة الأرضية إلى قسمين شرقي وغربي يسمى جرينتش.

٧- دائرة العرض الرئيسية التي تقسم الكرة الأرضية إلى قسمين شمالي وجنوبي تسمى الاستواء.

٨- يطل الوطن العربي من ناحية الغرب على مسطح مائي يسمى المحيط الأطلسي.

٩- يطل الوطن العربي من ناحية الشرق على مسطحات مائية هي الخليج العربي و بحر العرب.

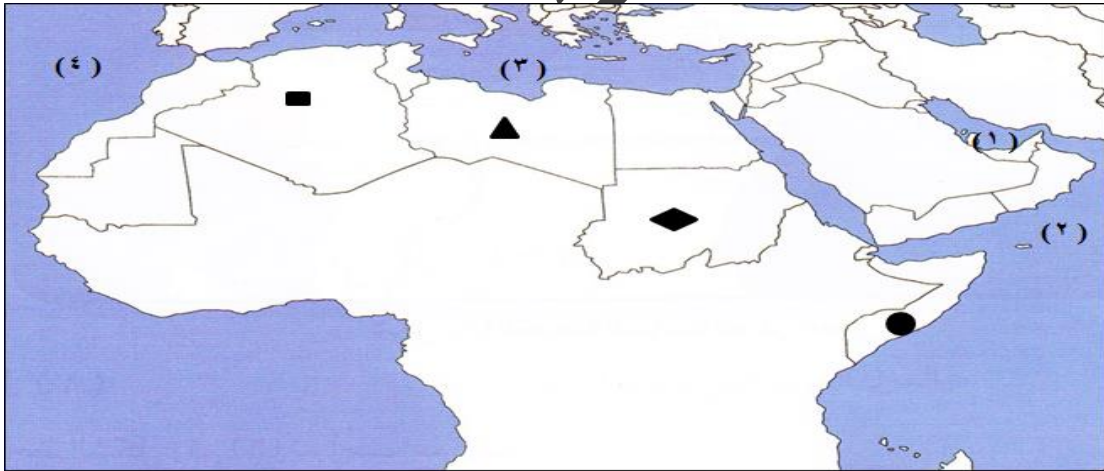
١٠- خطوط وهمية ترسم على الكرة الأرضية وتقسّمها إلى قسمين شرقي وغربي تسمى خطوط

الطول.

١١- خطوط وهمية ترسم على الكرة الأرضية وتقسّمها إلى قسمين شمالي وجنوبي تسمى دوائر

العرض.

لاحظ خريطة الوطن العربي ثم أجب عن الأسئلة التي تليها:



• الرقم (١) يشير على الخريطة إلى مسطح مائي يسمى الخليج العربي.

• الرقم (٢) يشير على الخريطة إلى مسطح مائي يسمى بحر العرب.

• الرقم (٣) يشير على الخريطة إلى مسطح مائي يسمى البحر المتوسط.

• الرقم (٤) يشير على الخريطة إلى مسطح مائي يسمى المحيط الأطلسي.

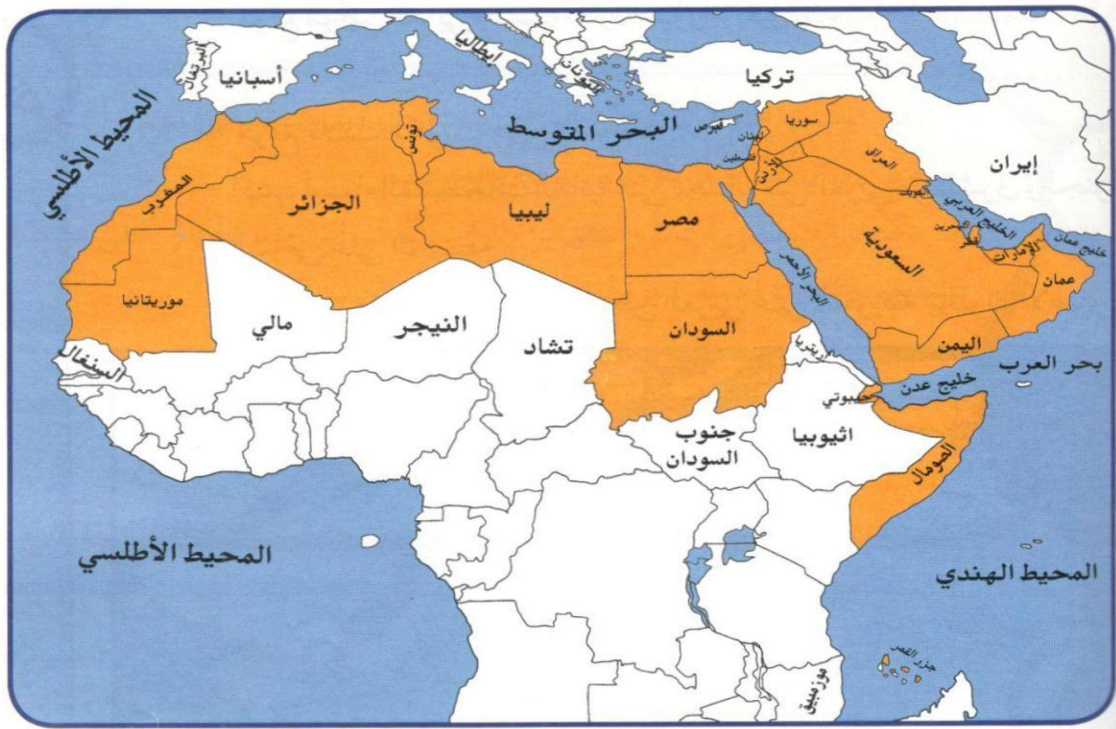
• الدولة التي يمر بها خط الاستواء يمثلها على الخريطة الرمز ●

• الدولة التي يمر بها خط جرينتش يمثلها على الخريطة الرمز ■

ج - الموقع النسبي للوطن العربي

الأنشطة :

نشاط (٣٣) ص (٣٣) لاحظ الشكل رقم (٦) ثم أجب عما يليه .



* ما القارة المجاورة للوطن العربي من جهة الشمال ؟

قارة أوروبا .

* ما المسطح المائي الذي يحده الوطن العربي من جهة الغرب ؟

المحيط الأطلسي .

أكمل العبارات التالية بما يناسبها مما درست :

١- القارة المجاورة للوطن العربي من جهة الشمال هي أوروبا.

٢- المسطح المائي الذي يحده الوطن العربي من جهة الغربي هو المحيط الأطلسي.

- ٣- يحد الوطن العربي من ناحية الشمال البحر المتوسط ودولة تركيا.
٤- يحد الوطن العربي من ناحية الشرق الخليج العربي ودولة إيران.

د - أهمية موقع الوطن العربي

أكمل المخطط السهمي التالي:



علل لما يلي:


- ١- الأهمية الجغرافية للوطن العربي.
 - يشغل مكاناً وسطاً بين قارات العالم الثلاث.
 - يطل على مسطحات مائية واسعة ذات أهمية كبيرة للملاحة والتجارة العالمية.
- ٢- تنافس الدول الاستعمارية للاستيلاء على الوطن العربي منذ القرن ١٨ الميلادي.
 - بسبب الموقع الاستراتيجي الهام للوطن العربي.
- ٣- يتمتع الوطن العربي بأهمية اقتصادية كبيرة.
 - منطقة عبور لحركة الملاحة والتجارة العالمية.
 - الجسر الذي يربط قارات العالم الثلاث (أفريقيا - آسيا - أوروبا) بمواردها الهائلة والضخمة.
 - ظهور النفط.
- ٤- يتمتع الوطن العربي بأهمية حضارية وثقافية.
 - قامت على أرضه العديد من الحضارات.

• هبطت على أرضه الديانات السماوية التي انتشرت في أنحاء العالم

الدرس الثالث : ملامح السطح في الوطن العربي

الأنشطة :

نشاط (١) ص (٣٧) شارك زملاءك في التمييز بين ملامح السطح في شكل (٧) حسب الجدول التالي

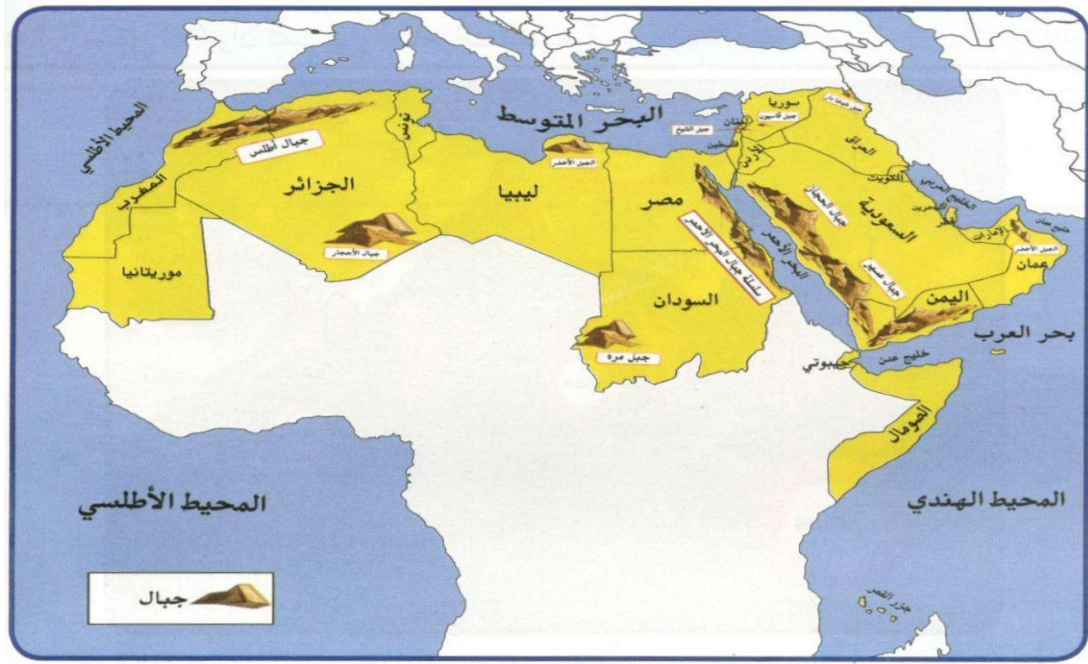


الوديان	السهول	الهضاب	الجبال	أوجه المقارنة	
	مساحة كبيرة من منخفض طولي بين منطقتين مرتفعتين .	سطح الأرض تتميز باستوائها وقلة ارتفاعها .	أرض مرتفعة مسطحة مستوية تمتد على مساحة كبيرة .	هو كل ما ارتفع من الأرض وله قمة لا يقل ارتفاعها عن ١٠٠٠ متر .	التعريف
				الرسم	

أ - الجبال في الوطن العربي

الأنشطة :

نشاط (١) ص (٣٨) تعرف على الجبال التي تقع في الوطن العربي في الجناح الآسيوي والأفريقي .

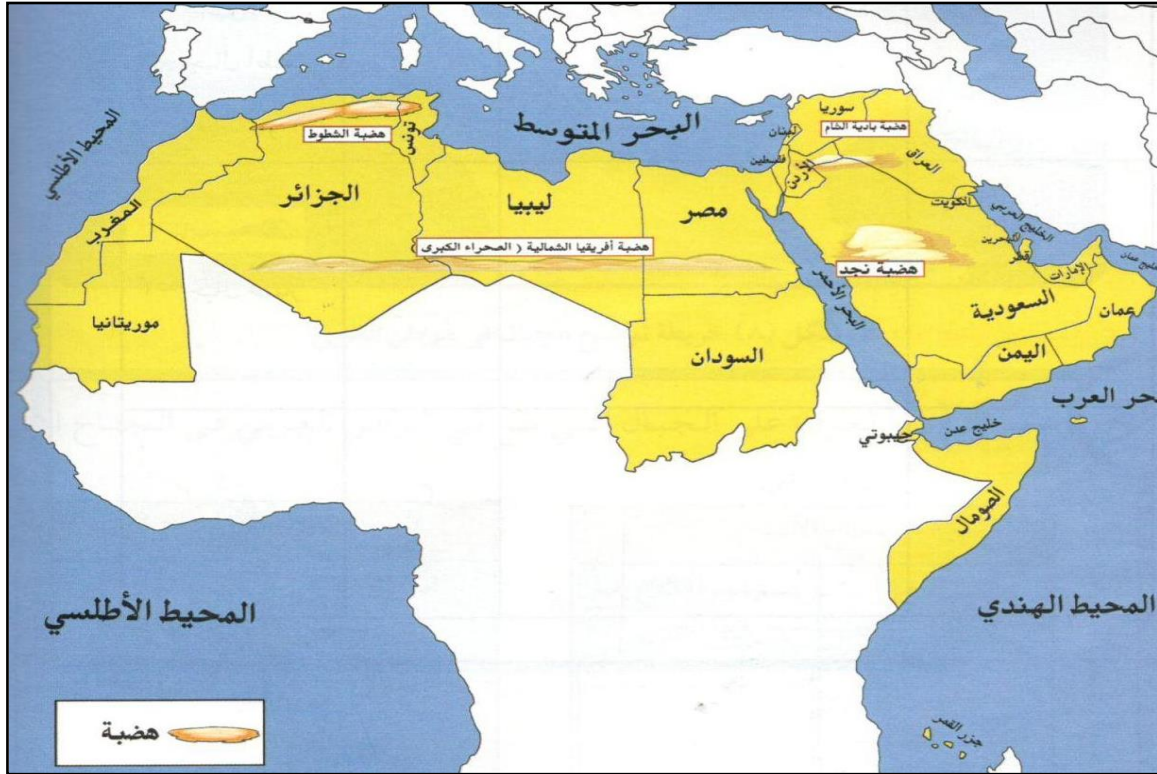


الجناح الأفريقي		الجناح الآسيوي	
الدولة التي يقع فيها	اسم الجبل	الدولة التي يقع فيها	اسم الجبل
مصر - السودان	جبال البحر الأحمر	عمان	الجبل الأخضر
السودان	جبل مرة	العراق	جبل شيخا دار
ليبيا	الجبل الأخضر	سوريا	جبل قاسيون
الجزائر	جبال الأحجار	لبنان	جبل الشيخ
المغرب - الجزائر تونس	جبال أطلس	السعودية	جبال الحجاز
		السعودية - اليمن	جبال عسير

ب - الهضاب في الوطن العربي

الأنشطة :

نشاط (١) ص (٤١) تعرف على أهم الهضاب التي تقع في الوطن العربي في الجناح الآسيوي والأفريقي .



أهم الهضاب في الجناح الأفريقي		أهم الهضاب في الجناح الآسيوي	
الدول التي تقع فيها	اسم الهضبة	الدول التي تقع فيها	اسم الهضبة
الجزائر	الشطوط	السعودية	نجد
مصر / ليبيا الجزائر	أفريقيا الشمالية (الصحراء الكبرى)	سوريا / العراق الأردن	بادية الشام

أكمل العبارات التالية بما يناسبها مما درست:

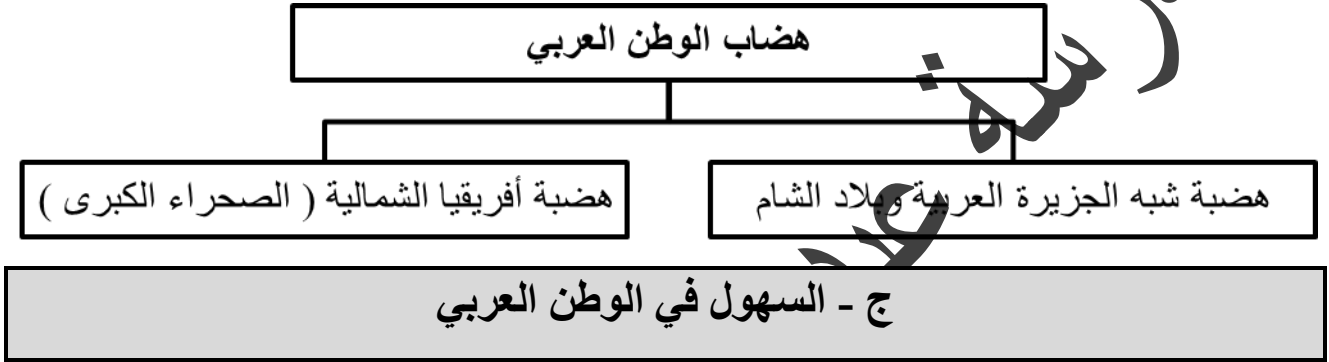
- ١- أكثر أشكال التضاريس انتشاراً في الوطن العربي هي الهضاب.
- ٢- توجد هضبة الشطوط في دولة الجزائر.
- ٣- توجد هضبة نجد في دولة السعودية.

- ٤- يطلق على هضبة أفريقيا الشمالية اسم الصحراء الكبرى.
- ٥- أكبر هضبة عربية تقع في الجناح الأفريقي تسمى أفريقيا الشمالية - الصحراء الكبرى.

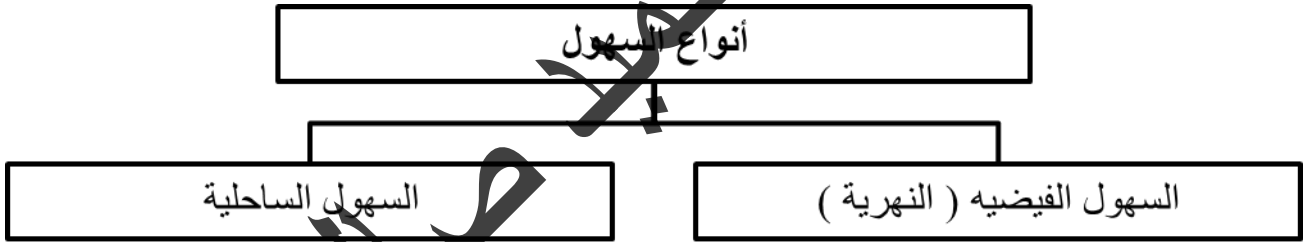
علل لما يلي:

- ١- تعد الهضاب أكثر الأشكال التضاريسية انتشاراً في الوطن العربي.
لأنها تشغل مساحات واسعة تمتد من أقصى الشرق إلى أقصى الغرب.

أكمل المخطط السهمي التالي



أكمل المخطط السهمي التالي:



أكمل العبارات التالية بما يناسبها مما درست:

- ١- توجد سهول نهر شبلي ونهر جوبا في دولة الصومال.
- ٢- توجد سهول نهر النيل في دولة مصر ودولة السودان.
- ٣- توجد سهول نهر المجردة في دولة تونس.
- ٤- توجد سهول نهر الشليف في دولة الجزائر.
- ٥- توجد سهول نهر سبو ونهر أبو رقرق ونهر أم الربيع ونهر السوس في دولة المغرب.
- ٦- يوجد سهل نهر العاصي في دولة سوريا ولبنان.
- ٧- يوجد سهل نهر الأردن في دولة الأردن وفلسطين.
- ٨- توجد سهول نهر دجلة والفرات في العراق وسوريا.

الدرس الرابع : المُنَاخ في الوطن العربي

أ - ما المقصود بالمُنَاخ ؟ وما الفرق بين الطقس والمُنَاخ ؟

نشاط ص (٤٥) من خلال ملاحظة الصور التالية تعرف على عناصر المُنَاخ في المخطط السهمي:



الرياح



الرطوبة



الأمطار



درجة الحرارة

أكمل المخطط السهمي التالي:



ب - العوامل التي تؤثر في مُنَاخ الوطن العربي

الأنشطة :

السؤال ص (٤٦) علل : الأماكن القريبة من خط الاستواء تتميز بارتفاع درجة حرارتها على مدار أيام السنة .

بسبب تعامد أشعة الشمس على خط الاستواء .

السؤال ص (٤٧) علل : إذا كانت الرياح تهب من منطقة جافة فإنها لا تسقط مطراً .

لأنها تكون رياح جافة غير محملة ببخار الماء .

أجب عن الأسئلة التالية:

١- عدد العوامل التي تؤثر في مُناخ الوطن العربي .

- الموقع بالنسبة لدوائر العرض .
- القرب أو البعد عن المسطحات المائية .
- التضاريس .

• الرياح .

٢- عدد الرياح الضعيفة والشموية في الوطن العربي .

- الرياح التجارية الصيفية .
- الرياح التجارية الشتوية .
- الرياح الموسمية .
- الرياح العكسية الغربية .

دلل على صحة العبارات التالية:

١- يؤثر الموقع بالنسبة لدوائر العرض في المُناخ.

الأماكن القريبة من خط الاستواء تتميز بارتفاع درجة حرارتها على مدار السنة .

٢- يؤثر القرب أو البعد عن المسطحات المائية في المُناخ.

المدن الساحلية تكون أكثر اعتدالاً في المُناخ صيفاً ، وأدفأ نسبياً في الشتاء

٣- تؤثر التضاريس في المُناخ.

تنخفض درجة الحرارة في المناطق المرتفعة (مثل : جبال سوريا ولبنان والطف في السعودية)

بينما ترتفع درجة الحرارة في المناطق المنخفضة (مثل : الرياض - القاهرة) .

٤- تؤثر الرياح في المُناخ.

إذا كان هبوب الرياح من منطقة باردة تؤدي إلى انخفاض درجة الحرارة ، وإذا كان هبوب الرياح

من منطقة حارة تؤدي إلى ارتفاع درجة الحرارة

علل لما يلي:

- 1- الأماكن القريبة من خط الاستواء تتميز بارتفاع درجة حرارتها على مدار أيام السنة. بسبب تعامد أشعة الشمس على خط الاستواء.
- 2- إذا كانت الرياح تهب من منطقة جافة فإنها لا تسقط مطراً. لأنها لا تتحمل ببخار الماء وتكون رياح جافة.
- 3- المدن الساحلية أكثر اعتدالاً في المناخ صيفاً. لأن البحر يلطّف من درجة حرارتها.

أكمل العبارات التالية بما يناسبها مما درست:

- 1- الأماكن القريبة من خط الاستواء تتميز على مدار أيام السنة بالارتفاع في درجة الحرارة.
- 2- الرياح المحلية التي تهب على دولة الكويت تسمى الطوز.
- 3- الدولة العربية التي تهب عليها رياح السموم والظوز هي السعودية.
- 4- الدولة العربية التي تهب عليها الرياح الشرقية هي العراق.
- 5- الدولة العربية التي تهب عليها رياح الهبوب هي السودان.
- 6- الدولة العربية التي تهب عليها رياح الخماسين هي مصر.
- 7- الدولة العربية التي تهب عليها رياح القبلي هي ليبيا.

ج - مُناخ الوطن العربي في فصل الصيف والشتاء

الأنشطة:

نشاط (١) ص (٥٠) اكتب تقريراً عن مُناخ الوطن العربي .

فصل الشتاء	فصل الصيف
تكون الشمس عمودية على المنطقة الواقعة بين خط الاستواء ومدار الجدي ، وترتفع الحرارة في جنوب الوطن العربي ، وتقل كلما اتجهنا شمالاً.	تكون الشمس عمودية على المنطقة الواقعة بين خط الاستواء ومدار السرطان وترتفع الحرارة أكثر في وسط الوطن العربي (صحراء) وتكون معتدلة على سواحل البحر المتوسط وشمال الوطن العربي .

الدرس الخامس : النبات الطبيعي في الوطن العربي

أ - العوامل الرئيسية المؤثرة في تنوع النبات الطبيعي في الوطن العربي

أجب عن الأسئلة التالية:

١ - عدد العوامل الرئيسية المؤثرة في تنوع النبات الطبيعي في الوطن العربي.

- نوع التربة.
- المناخ.

ب - الحياة النباتية في الوطن العربي

الأنشطة :

نشاط (١) ص (٥٣) لاحظ خريطة شكل (١٥) ثم أكمل الجدول التالي:

النوع	التوزيع الجغرافي (أين تنتشر)
الغابات المدارية (الحارة)	جنوب السودان / جنوب الصومال / مرتفعات عمان / اليمن.
الغابات المعتدلة	ليبيا / تونس / الجزائر / المغرب / العراق / سوريا / لبنان فلسطين / الأردن.
الحشائش الحارة (السافانا)	جنوب ووسط السودان / جنوب الصومال / اليمن / عمان
الحشائش المعتدلة (الأستبس)	المغرب - الجزائر - تونس - ليبيا سوريا - شمال العراق - لبنان فلسطين - مرتفعات عمان - اليمن .
النباتات الصحراوية	شبه الجزيرة العربية / بادية الشام / شمال قارة أفريقيا (مصر ليبيا / تونس / الجزائر / المغرب) الصومال

نشاط (٢) بعد النظر إلى المخطط السهمي السابق ص (٥٣) وقراءته ، فرق بين الغابات

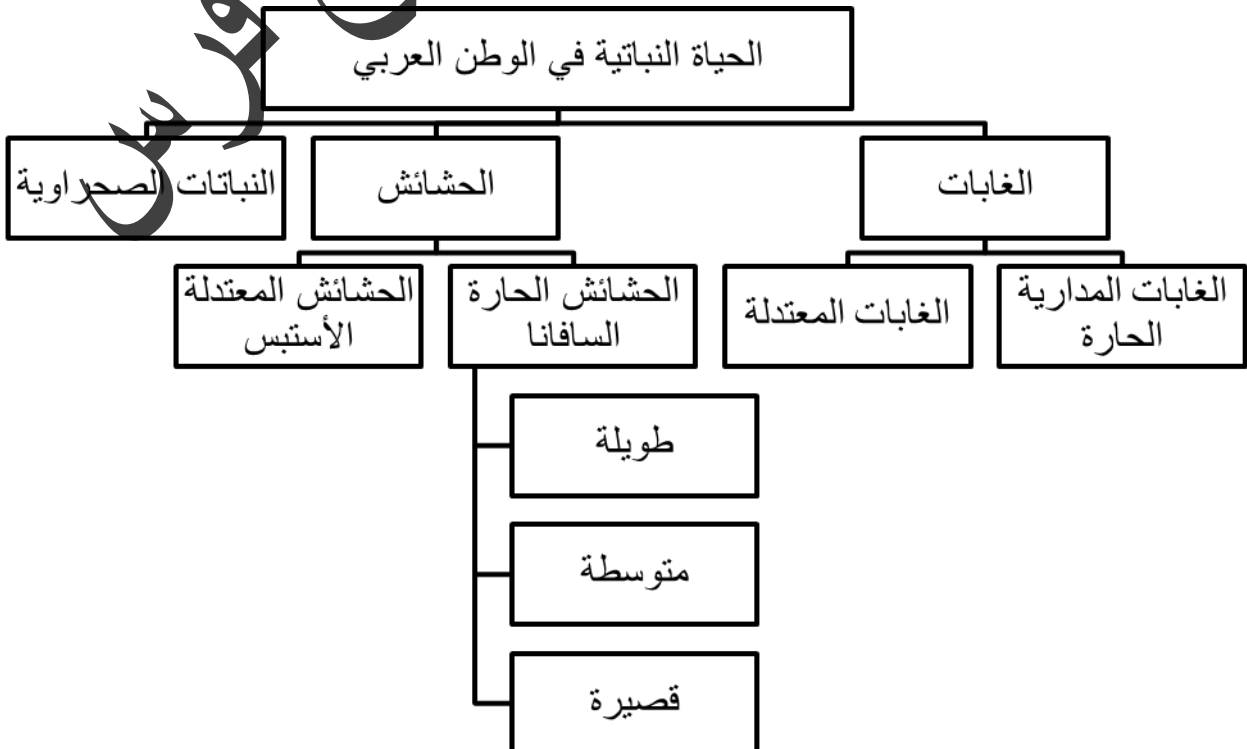
المدارية الحارة والغابات المعتدلة.

الغابات المعتدلة	الغابات المدارية الحارة	وجه المقارنة
الأرز - العرعر - الصنوبر الحلبي البلوط - السنديان.	الساج - الماهوجني - التاك - الأبنوس السدر - الأثل - السنط	أهم أشجارها
- عدم الكثافة. - بعضها دائم الخضرة. - بعضها تتساقط أوراقه في الشتاء.	- ضخامة أشجارها وجذوعها. - تشابك أغصانها. - أوراقها العريضة. - ارتفاعها الكبير.	مميزات أشجارها
يستخدم لحاء البلوط والسنديان في صناعة الفلين.	تستخدم أخشابها في: - البناء. - صناعة الأثاث.	استخداماتها

نشاط (٣) ص (٥٤) من خلال ملاحظة الشكل (١٦) و (١٧) استنتج أهم الخصائص النباتية للنباتات الصحراوية .

- جذورها طويلة :حتى تصل إلى أعماق التربة حيث المياه الباطنية .
- القدرة على خزن المياه . لاستخدامها وقت الحاجة .
- تحمي نفسها بلحاء سميك وأوراق إبرية .

أكمل المخطط السهمي التالي :



قارن بين حشائش السافانا وحشائش الأستبس حسب الجدول التالي :

حشائش الأستبس	حشائش السافانا	وجه المقارنة
- صناعة الورق والحبال والحصر . - تربي عليها الأغنام والإبل والخيول والحمير .	تربي عليها الماشية .	الاستخدامات
المغرب - الجزائر - تونس - ليبيا سوريا - شمال العراق - لبنان فلسطين - مرتفعات عمان - اليمن .	جنوب ووسط السودان / جنوب الطومال / اليمن / عمان	التوزيع الجغرافي

أكمل العبارات التالية بما يناسبها :

- ١- غابات تمتاز بضخامة أشجارها وجذوعها وتشابك أغصانها تسمى الغابات المدارية .
- ٢- حشائش طويلة يختلف نوعها حسب كمية الأمطار تسمى السافانا .
- ٣- تعرف حشائش الأستبس في بلاد المغرب باسم الحلفا .
- ٤- الحشائش التي تربي عليها الأغنام والإبل والخيول والحمير تسمى الأستبس .
- ٥- تنمو أشجار الزيتون والتفاح والحمضيات في الغابات المعتدلة .
- ٦- يستخدم لحاء البلوط والسنديان في صناعة الفلين .

ج - الحيوانات السائدة في المنطقة الصحراوية

نشاط (١) ص (٥٥) ألصق صوراً تمثل الحياة الحيوانية الصحراوية في الوطن العربي
بالمكان المناسب .

قوارض	زواحف	حشرات	طيور
			

نشاط (٢) ص (٥٦) لاحظ الصورة التي أمامك ثم ساعد خالداً على الإجابة .



* ما اسم هذا الحيوان ؟

الجمال (الإبل) .

* ما لقب هذا الحيوان ؟

سفينة الصحراء .

* ما الصفات التي يمتاز بها ؟

- الذكاء والقوة
- الانقياد والطاعة
- الوفاء
- الذكاء
- تحمل الجوع والعطش
- تحمل الظروف الصحراوية القاسية
- حمل الأثقال

أجب عن الأسئلة التالية :

١- عدد أهم الحيوانات السائدة في المنطقة الصحراوية .

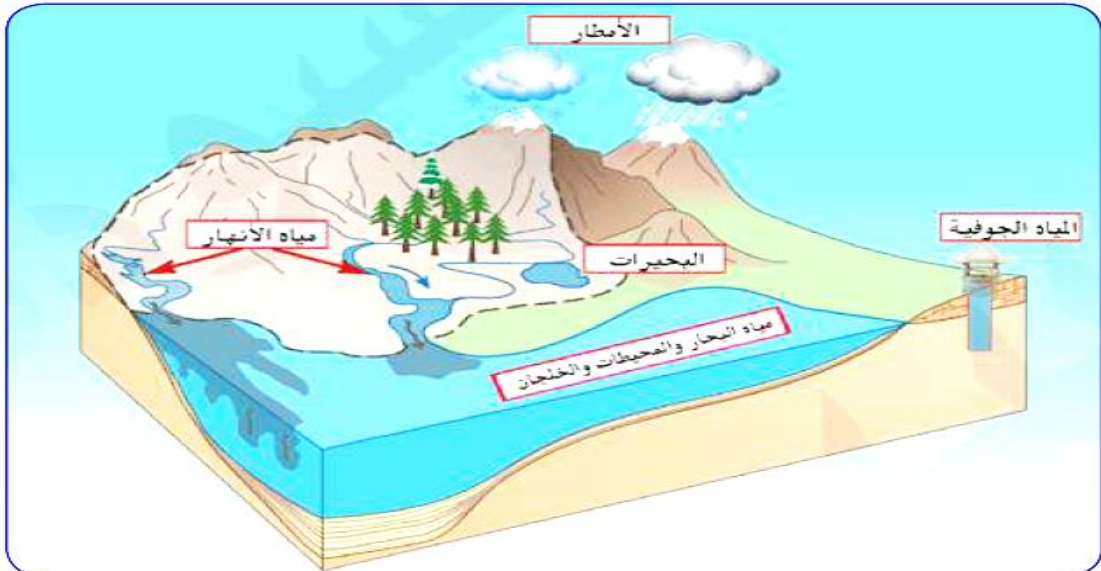
- الإبل / الماعز / الضب / الأرنب

الدرس السادس : الثروة المائية في الوطن العربي

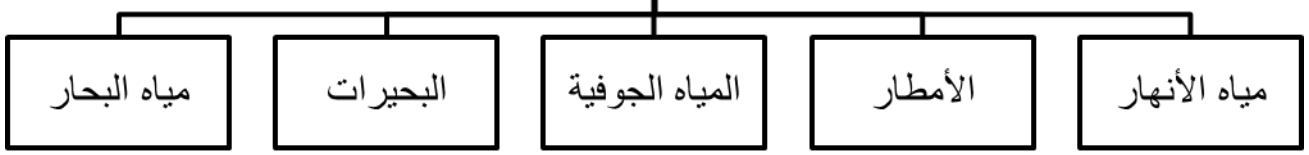
١ - مصادر المياه في الوطن العربي

الأنشطة :

نشاط (١) ص (٥٧) أكمل المخطط السهمي مستعيناً بشكل (١٩) .



مصادر المياه في الوطن العربي



نشاط ص ٥٩ تعرف على أسماء أهم الأنهار في الوطن العربي ، مستعيناً بالخريطة شكل (٢٠)
ثم أكمل الجدول التالي :

أهم أنهار الوطن العربي في الجناح الآسيوي	
اسم النهر	الدول العربية التي يمر بها
نهر دجلة	سوريا - العراق
نهر الفرات	سوريا - العراق
نهر العاصي	لبنان - سوريا
نهر الأردن	الأردن - فلسطين

أهم أنهار الوطن العربي في الجناح الأفريقي	
اسم النهر	الدول العربية التي يمر بها
نهر النيل	مصر - السودان
نهر شبلي	الصومال
نهر جوبا	الصومال
نهر المجردة	تونس
نهر الشليف	الجزائر
نهر سبو	المغرب
نهر أبو رقراق	المغرب
نهر أم الربيع	المغرب
نهر السوس	المغرب

نشاط (١) ص (٦٠) فكر ثم أجب :

- ما مصادر المياه الجوفية ؟

- الأمطار .
- الأنهار الدائمة والموسمية .
- ذوبان الجليد .

- أين تكثر الآبار الجوفية ؟

في الواحات التي تنتشر في المناطق الصحراوية .

نشاط (١) ص (٦٢) أجب عما يلي :

* عدد أهم محطات تحلية المياه في دولة الكويت .

- الشويخ .
- الدوحة .

* أي مصدر من مصادر المياه تعتمد عليه دولة الكويت ؟ ولماذا ؟

- مياه البحر .

- لقلة مصادر المياه العذبة في دولة الكويت .

* ما المسطحات المائية التي تعتمد عليها دول الخليج العربية في تحلية المياه ؟

- الخليج العربي .
- بحر العرب .
- البحر الأحمر .

نشاط (٢) ص (٦٢) قام خالد بزيارة محطة لتحلية المياه واطلع هناك على بعض الإحصائيات

لاستخدام بعض الدول العربية للمياه المحلاة وكانت له بعض التساؤلات أجب عنها مستعيناً

بإطلاعات خارجية بمساعدة معلمك :

١- ما أكثر الدول إنتاجاً للمياه المحلاة ؟ ولماذا ؟

- دولة الكويت .

- لقلة مصادر المياه العذبة في الكويت / زيادة معدلات الاستهلاك .

٢- بما تفسر اتجاه عدد من الدول العربية إلى البحار لتأمين حاجاتها من المياه العذبة .

لقلة مصادر المياه العذبة في هذه الدول .

أكمل العبارات التالية بما يناسبها مما درست :

- ١- من أهم مصادر المياه في الوطن العربي وتمتاز بأنها مياه عذبة تسمى الأنهار .
- ٢- مجرى مائي عذب ينحدر على الدوام لينتهي إلى بحر أو إلى نهر آخر يسمى النهر .
- ٣- يصب نهر دجلة والفرات في مسطح مائي يسمى الخليج العربي .
- ٤- يمر نهر النيل في دولة السودان ودولة أخرى اسمها مصر .
- ٥- يصب نهر النيل في مسطح مائي يسمى البحر المتوسط .
- ٦- يوجد نهر شلبي وجوبا في دولة عربية تسمى الصومال .
- ٧- يوجد في دولة العراق نهري دجلة والفرات .
- ٨- يوجد في دولة سوريا نهر يسمى العاصي .
- ٩- يوجد في دولة الأردن نهر يسمى الأردن .
- ١٠- يوجد نهر المجردة في دولة تونس .
- ١١- يوجد نهر الشليف في دولة الجزائر .
- ١٢- توجد أنهار سبو وأبورقراق وأم الربيع والسوس في دولة المغرب .
- ١٣- تتصف الأمطار في الوطن العربي بأنها بصفة عامة قليلة .
- ١٤- الأمطار في الوطن العربي تكاد تقتصر على الأطراف الشمالية والأطراف الجنوبية .
- ١٥- تكثر الآبار الجوفية في الواحات .
- ١٦- المياه التي توجد في باطن الأرض تسمى المياه الجوفية .
- ١٧- الماء الجاري وهو عبارة عن مجرى صغير مائي في الأرض يسمى الأفلاج .
- ١٨- مسطح مائي تحيط به اليابسة من جميع الاتجاهات تسمى البحيرة .
- ١٩- أصبحت الكويت تعتمد اعتماداً كاملاً على تحليه مياه البحر منذ بداية عام ١٩٥٣ م .
- ٢٠- محطة تحليه المياه التي تم انشائها عام ١٩٥٣ م تسمى محطة الشويخ .
- ٢١- تنتشر في المملكة العربية السعودية محطات لتحلية المياه أهمها منطقة الإحساء .
- ٢٢- أكثر الدول العربية إنتاجاً للمياه المحلاة دولة الكويت .
- ٢٣- مصدر المياه الذي تعتمد عليه دولة الكويت هو مياه البحر .

اكتب فيما يلي مما درست :

- ١- صفات الأمطار في الوطن العربي .
 - تذبذب كمية الأمطار بين عام وآخر ، كما أنها تسقط في أيام معدودة .
 - الأمطار في الوطن العربي تكاد تقتصر على الأطراف الشمالية والأطراف الجنوبية منها .
 - تلصق الأمطار بأنها قليلة بصفة عامة ، ولا يستثنى من ذلك سوى المناطق التي تقع من ورائها الجبال ، كما هي الحال في سواحل المغرب وساحل لبنان .
- ٢- الأشكال التي تظهر فيها المياه الجوفية .
 - الآبار الجوفية .
 - العيون والينابيع .
 - الأفلاج .

٢ - ترشيد استخدام المياه

- ### كيف نحافظ على ثروة المياه ونخفف من المشكلة .
- ١- ترشيد استخدام المياه والحد من التبذير في المنازل .
 - ٢- الحد من هدر المياه في عمليات الري ، وذلك باستخدام الوسائل الحديثة كالرش بالتنقيط والمحوري .
 - ٣- تنظيم عملية الاستفادة من المياه الجوفية ومنع تسرب الأملاح الملوثة إليها وإيثارها على الوجه الأمثل .
 - ٤- تطوير استعمال مياه الصرف الصحي المعالجة في الزراعة .
 - ٥- إقامة البحيرات والسدود لتجميع مياه الأمطار والسيول للاستفادة منها في فصل الجفاف .
 - ٦- توقيع اتفاقيات مع الدول المشاركة ودول المنبع لتحقيق مصالح الدول العربية المعنية .

الوحدة الثانية

الوطن العربي مهد الحضارات والديانات السماوية

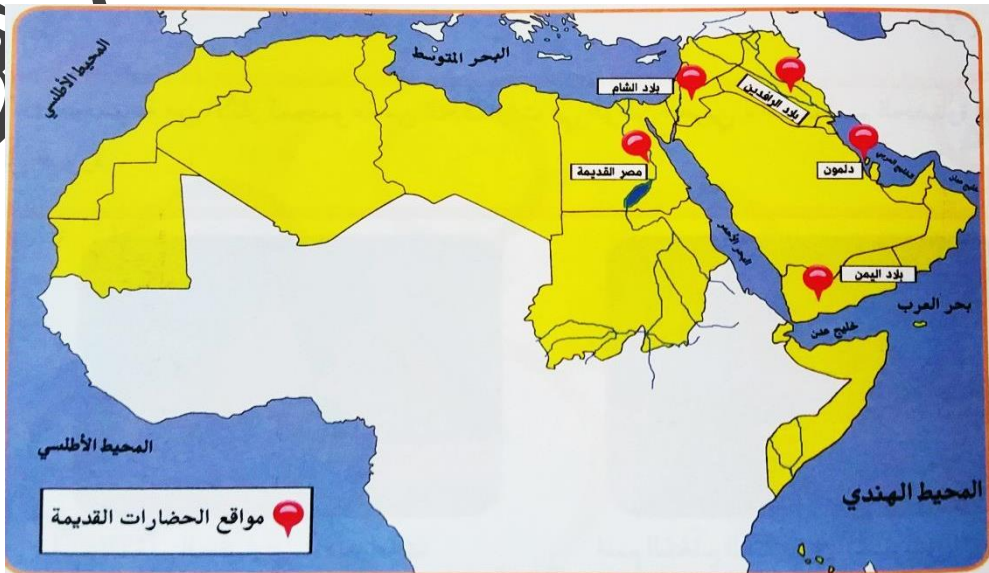
مفاهيم الوحدة الثانية :

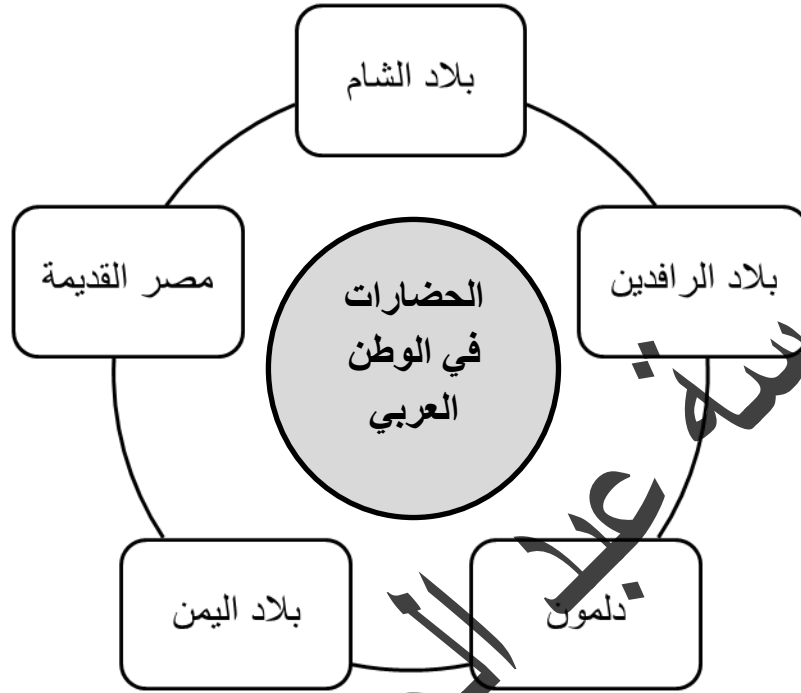
المفهوم	التعريف
الحضارة	كل ما يطرأ على المجتمع من تقدم وتطور ورقي في جميع نواحي الحياة الدينية والسياسية والاقتصادية والاجتماعية والفكرية .
بلاد الرافدين	بلاد ما بين النهرين ، العراق حالياً .
أوال	اسم أطلق على البحرين قديماً نسبة إلى صنم اسمه أوال كانت تعبده قبيلة وائل التي حكمت البحرين آنذاك .

الدرس الأول : الأهمية الحضارية للوطن العربي

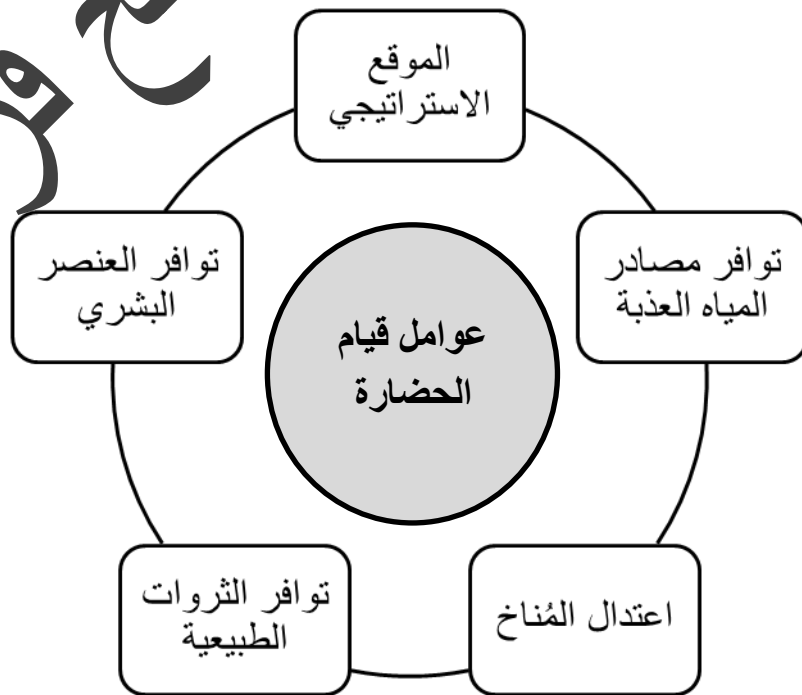
الأنشطة :

نشاط (١) ص (٧٢) استعن بالخريطة شكل (٢٣) ثم دون أهم الحضارات التي قامت في الوطن العربي على الشكل الذي أمامك .





نشاط (٣) ص (٧٣) أكمل الشكل التالي :



اكتب فيما يلي مما درست :

١- الحضارات التي قامت في الوطن العربي .

- حضارة بلاد الشام .
- حضارة بلاد الرافدين .
- حضارة دلمون .
- حضارة بلاد اليمن .
- الحضارة المصرية القديمة .

٢- عوامل قيام الحضارة في الوطن العربي

- الموقع الاستراتيجي .
- توافر مصادر المياه العذبة .
- اعتدال المناخ .
- توافر الثروات الطبيعية .
- توافر العنصر البشري .

صنف المعالم الحضارية الآتية حسب مكانها الصحيح في الجدول التالي :

(سد مأرب - آثار تدمر - الأهرامات - أسد بابل - معبد باربار)

المعلم الحضاري	الأهرامات	أسد بابل	آثار تدمر	معبد باربار	سد مأرب
الحضارة	مصر القديمة	بلاد الرافدين	بلاد الشام	دلمون	بلاد اليمن

الدرس الثاني : نماذج من الحضارات القديمة في الوطن العربي

١- الحضارة المصرية القديمة

التمارين :

أكمل المخطط السهمي التالي :



اكتب فيما يلي مما درست :

١- أهم المحاصيل الزراعية في الحضارة المصرية القديمة .

- القمح .
- الفواكه .
- البقول .
- الكتان .

٢- أهم الصناعات في الحضارة المصرية القديمة .

- الأواني الفخارية والمعدنية .
- الملابس الكتانية .

- السفن .
- الورق .
- ٣- أهم العلوم والفنون التي أحرز فيها المصريون القدماء تقدماً كبيراً .
- الفلك .
- الكيمياء .
- التحنيط .
- النحت .
- البناء .
- الكتابة .

أكمل العبارات التالية بما يناسبها مما درست .

- ١- تعتبر الأهرامات مظهر من مظاهر الحضارة المصرية القديمة .
- ٢- عرفت الكتابة المصرية القديمة باسم الهير و غليفية .

علل لما يلي :

- ١- حرص المصريين القدماء على تحنيط جثث موتاهم لاعتقادهم أن الحياة تعود إلى الجسم بعد الموت أي انهم اعتقدوا في البعث والخلود .

ما النتائج المترتبة على كل مما يلي :

- ١- وجود نهر النيل في مصر .
- ربط بين أجزاء البلاد من الشمال إلى الجنوب وساعد على الاستقرار .
- ٢- تنوع الصخور والمعادن في الحضارة المصرية القديمة .
- ساعدت المصريين على نحت التماثيل وبناء المعابد .
- ٣- امتداد الصحراء في الحضارة المصرية القديمة .
- جعل الحضارة المصرية في أمن وحماية طبيعية .
- ٤- اعتدال المناخ وجفافه في الحضارة المصرية القديمة .
- المحافظة على الآثار من التلف .
- ٥- اعتقاد المصريون القدماء أن الحياة تعود إلى الجسم بعد الموت .

- حرصوا على تخنيط حثث موتاهم .
- اهتموا ببناء القبور .

٢- حضارة بلاد الرافدين

الأنشطة:

نشاط (١) ص (٧٩) لاحظ الخريطة شكل (٢٨) ثم استخراج اسم النهرين في بلاد الرافدين .

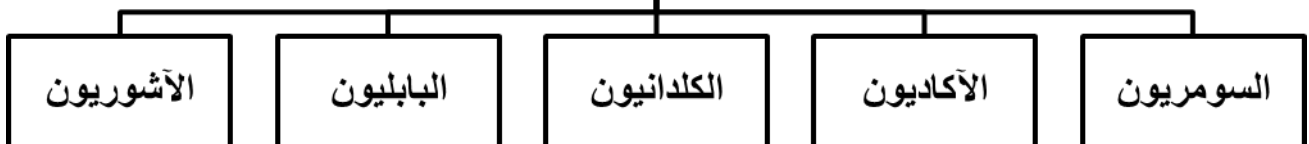


١- نهر دجلة .

٢- نهر الفرات .

نشاط (٢) ص (٨٠) اكتب أسماء الحضارات التي قامت في بلاد الرافدين في المخطط السهمي الذي أمامك من خلال الاستعانة بالخريطة شكل (٢٨) .

أهم الحضارات التي قامت في بلاد الرافدين



التمارين :

أكمل العبارات التالية بما يناسبها مما درست :

- ١- يطلق اسم بلاد الرافدين أو بلاد ما بين النهرين على دولة عربية تسمى العراق .
- ٢- عدد الشعوب التي سيطرت على بلاد الرافدين خلال تاريخها القديم خمسة شعوب .
- ٣- اخترع السومريون نوعاً من الكتابة عرفت باسم الكتابة المسمارية .
- ٤- تعد الكتابة المسمارية من أقدم أنواع الكتابة في العالم وحروفها تشبه المسمار .
- ٥- الكتابة لمسمارية تكتب على ألواح من الطين الطري بواسطة أقلام تشبه المسامير .
- ٦- عدد حروف الكتابة المسمارية ٦٠٠ حرف .
- ٧- من أشهر ملوك الحضارة البابلية في العراق ملك يسمى حمورابي .
- ٨- ظهرت في بلاد الرافدين شرائع قانونية قديمة عدة من أهمها شريعة حمورابي .
- ٩- عدد المواد القانونية في شريعة حمورابي ٢٨٢ مادة .

اكتب فيما يلي مما درست :

- ١- أنهار بلاد الرافدين .
 - نهر دجلة .
 - نهر الفرات .
- ٢- عوامل قيام الحضارة في بلاد الرافدين .
 - الموقع الممتاز .
 - خصوبة التربة .
 - وفرة المياه العذبة .
- ٣- أهم الحضارات التي قامت في بلاد الرافدين .
 - السومريون .
 - الأكاديون .
 - الكلدانيون .
 - البابليون .
 - الآشوريون .

٤- العوامل التي ساعدت على ازدهار الزراعة في بلاد الرافدين .

▪ خصوبة التربة .

▪ سعة السهول .

▪ وفرة المياه العذبة .

٥- جهود بلاد الرافدين في مجال الزراعة .

▪ أقاموا السدود على الأنهار .

▪ جففوا المستنقعات .

▪ استصلحوا الأراضي .

٦- صادرات بلاد الرافدين .

▪ المنتجات الزراعية .

▪ المنسوجات خاصة الصوفية منها .

٧- واردات بلاد الرافدين .

▪ المعادن .

▪ الأحجار .

▪ الأخشاب .

٨- الصناعات التي اشتهرت بها بلاد الرافدين .

▪ صناعة الحلي .

▪ صناعة الأواني الفخارية .

٩- العلوم التي برع فيها سكان بلاد الرافدين .

▪ الهندسة .

▪ الحساب .

▪ الفلك .

▪ الطب .

١٠- أهم الفنون في حضارة بلاد الرافدين .

▪ فن النحت .

▪ البناء .

بلاد الحمير صلاح فرس

▪ الرسم .

١١- الأدوات المستخدمة في الكتابة المسمارية .

▪ ألواح من الطين الطري .

▪ أقلام تشبه المسامير .

١٢- المبدأ الذي اعتمدت عليه شريعة حمورابي .

" السن بالسن والعين بالعين " .

علل لما يلي :

١- انتشار الأمن والأمان في بلاد الرافدين في عهد حمورابي .

بسبب شرائع حمورابي .

٣- حضارة جنوب غرب شبه الجزيرة العربية (بلاد اليمن)

الأنشطة :

نشاط (١) ص (٨٥) من خلال الخريطة شكل (٣٧) والصور (٣٨ - ٤٠) أجب عن

الأسئلة التالية .



١- حضارة معين : (١٣٠٠ - ٦٥٠ ق . م)
أين تقع حضارة معين ؟ وما عاصمتها وأهم معالمها ؟
تقع في اليمن .

العاصمة : قرناو . أهم المعالم : مدينة يثل الدينية .
٢- حضارة سبأ : (٩٥٠ - ١١٥ ق . م)

أين تقع حضارة سبأ ؟ وما أهم مدنها وأهم معالمها ؟
تقع في اليمن .

أهم مدنها : مأرب . أهم معالمها : نقش سبأ بالخط المسند .
٣- حضارة حمير : (١٥٥ - ٥٢٥ م)

أين تقع حضارة حمير ؟ وما أهم مدنها وأهم معالمها ؟
تقع في اليمن .

أهم مدنها : ريدان . أهم معالمها : مائدة فرايين .

التمارين :

اكتب فيما يلي مما درست :

- ١- عوامل قيام الحضارة في بلاد اليمن .
 - توافر المياه العذبة .
 - المناخ المناسب لقيام الزراعة .
 - الموقع الذي يسمح بقيام النشاط التجاري .
- ٢- الحضارات التي قامت في بلاد اليمن .
 - حضارة معين .
 - حضارة سبأ .
 - حضارة حمير .
- ٣- المشاريع الزراعية التي اشتهر بها سكان جنوب غرب شبه الجزيرة العربية .
بناء السدود والخزانات .

٤- أشهر المنتجات الزراعية في حضارة بلاد اليمن .

- الموز .
- اللبان .
- القرقة .

٥- الحضارات التي كان بينها وبين بلاد اليمن تبادل تجاري .

- حضارة مصر القديمة .
- حضارة بلاد الرافدين .
- حضارة بلاد الشام .

علل لما يلي :

١- تميز سكان جنوب غرب شبه الجزيرة العربية في الزراعة .

بسبب اقامة المشاريع الزراعية (السدود والخزانات) .

٢- كان أهل اليمن أسياد التجارة العربية .

- سيطروا على الطرق التجارية .
- امتدت تجارتهم بين شمال شبه الجزيرة العربية وجنوبها .
- كان هناك تبادل تجاري مع الحضارات المجاورة لها .

أكمل العبارات التالية بما يناسبها مما درست :

١- سمح الموقع المتميز لحضارة جنوب غرب شبه الجزيرة العربية على قيام النشاط التجاري .

٢- الحضارة التي امتدت بين (١٣٠٠ - ٦٥٠ ق . م) تسمى معين .

٣- عاصمة حضارة معين مدينة تسمى قرناو .

٤- أهم معالم حضارة معين مدينة دينية تسمى يثل .

٥- الحضارة التي امتدت بين (٩٥٠ - ١١٥ ق . م) تسمى سبأ .

٦- أهم مدن حضارة سبأ مدينة مأرب .

٧- أهم معالم حضارة سبأ نقش سبأ بالخط المسند .

٨- الحضارة التي امتدت بين (١١٥ - ٥٢٥ م) تسمى حمير .

- ٩- أهم مدن حضارة حمير مدينة ريدان .
- ١٠- أهم معالم حضارة حمير مائدة قرابين .
- ١١- من أشهر ممالك اليمن القديمة والتي ورد ذكرها في القرآن الكريم مملكة سبأ .
- ١٢- أشهر ملوك مملكة سبأ التي ورد ذكرها في القرآن الكريم تسمى بليقيس .
- ١٣- اشتهر سكان جنوب غرب شبه الجزيرة العربية بالمشاريع الزراعية .
- ١٤- أشهر سدود بلاد اليمن سد يسمى مأرب .
- ١٥- الخط الذي كانت تكتب به الأبجدية في حضارة جنوب غرب شبه الجزيرة العربية هو المسند
- ١٦- تتألف الأبجدية من ٢٩ حرفاً .

٤- حضارة دلمون (البحرين)

الأنشطة :

السؤال ص (٨٨) اذكر حضارتين من هذه الحضارات .

- حضارة بلاد الرافدين .
- حضارة بلاد اليمن .

التمارين :

أكمل العبارات التالية بما يناسبها مما درست :

- ١- كانت دلمون تسمى قبل الفتح الإسلامي باسم أوال .
- ٢- قامت حضارة دلمون في دولة عربية هي البحرين .

أجب عن الأسئلة التالية كما هو مطلوب بين القوسين :

- ١- تعتبر حضارة دلمون مركزاً مهماً للمواصلات البحرية . (علل)
بسبب موقعها وسط الخليج العربي .

٢- ما النتائج المترتبة على موقع حضارة دلمون وسط الخليج العربي .
أصبحت مركزاً للمواصلات والتجارة البحرية بين البلدان المطلة على الخليج العربي والحضارات
المجاورة لها .

الدرس الثالث : الوطن العربي مهد الديانات السماوية الثلاث

التمارين :

أكمل المخطط السهمي التالي :



أكمل الجدول التالي :

الديانة	الكتاب	النبي
اليهودية	التوراة	موسى عليه السلام
المسيحية	الإنجيل	عيسى عليه السلام
الإسلام	القرآن الكريم	محمد عليه الصلاة والسلام

أكمل العبارات التالية بما يناسبها مما درست :

- ١- نزل القرآن الكريم على الرسول صلى الله عليه وسلم في عام ٦١٠ م .
- ٢- نزل القرآن الكريم على الرسول صلى الله عليه وسلم في مدينة مكة المكرمة .

أجب عن الأسئلة التالية كما هو مطلوب بين القوسين :

تكفل الله سبحانه وتعالى بحفظ القرآن الكريم من التحريف والتغيير . (دلل)

بسم الله الرحمن الرحيم " إِنَّا نَحْنُ نَزَّلْنَا الذِّكْرَ وَإِنَّا لَهُ لَحَافِظُونَ "

٢- اكتسب الوطن العربي مكانة روحية مقدسة . (علل)

لأن الوطن العربي مهد الديانات السماوية الثلاث .

الدرس الرابع : الحضارة العربية الإسلامية

التمارين :

أجب عن الأسئلة التالية :

١- ما الذي يحقق التكافل الاجتماعي في الحضارة الإسلامية .

• الصوم

• الزكاة

٢- عدد مبادئ الإسلام .

• الشورى / العدل / المساواة

٣- ما الذي قامت عليه الحضارة العربية الإسلامية .

قامت على الإسلام وتعاليمه .

٤- ما هي الرابطة الأساسية التي ربطت أجزاء الدولة الإسلامية بعضها ببعض .

اللغة العربية .

٤- عدد طرق انتقال الحضارة العربية الإسلامية إلى أوروبا .

• بلاد الأندلس

• صقلية / بلاد الشام

علل لما يلي :

١- كانت أوروبا تعيش في عصور الظلام .

بسبب سيطرة الكنيسة على عقول الناس .

مدرسة عبد الحميد صالح فرس